

Документ подписан простой электронной подписью Информация о владельце: ФИО: Таскаев Сергей Валерьевич Должность: Ректор	МИНОБРАЗОВАНИЯ РОССИИ Федеральное государственное бюджетное образовательное учреждение высшего образования «Челябинский государственный университет» (ФГБОУ ВО «ЧелГУ»)	
Дата подписания: 05.04.2026 Уникальный программный ключ: 054c0182970293149c21639f110940792836664	Фонд оценочных средств для промежуточной аттестации по дисциплине (модулю) «Экономика» по направлению подготовки (специальности) 02.03.02 «Фундаментальная информатика и информационные технологии» направленности (профилю) «Математические и алгоритмические основы интеллектуальных систем» ФГБОУ ВО «ЧелГУ»	стр. 1

**Фонд оценочных средств для промежуточной аттестации
по дисциплине (модулю)**

Экономика

Направление подготовки (специальность)

02.03.02 Фундаментальная информатика и информационные технологии

Направленность (профиль)

Математические и алгоритмические основы интеллектуальных систем

Присваиваемая квалификация (степень)

бакалавр

Форма обучения

очная

Год набора

2026

Троицк, 2026 г.



Содержание

1. Паспорт фонда оценочных средств
2. Перечень формируемых компетенций
 - 2.1. Компетенции, закреплённые за дисциплиной
3. Содержание оценочных средств по дисциплине
 - 3.1. Виды оценочных средств
 - 3.2. Содержание оценочных средств
4. Порядок проведения и критерии оценивания промежуточной аттестации
 - 4.1. Порядок проведения промежуточной аттестации
 - 4.2. Критерии оценивания промежуточной аттестации по видам оценочных средств
 - 4.3. Результаты промежуточной аттестации и уровни сформированности компетенций



1. ПАСПОРТ ФОНДА ОЦЕНОЧНЫХ СРЕДСТВ

Направление подготовки: *02.03.02 «Фундаментальная информатика и информационные технологии»*

Направленность (профиль) Математические и алгоритмические основы интеллектуальных систем

Дисциплина: *Экономика*

Семестр изучения: *6*

Форма промежуточной аттестации: *зачет*

2. ПЕРЕЧЕНЬ ФОРМИРУЕМЫХ КОМПЕТЕНЦИЙ

2.1. Компетенции, закреплённые за дисциплиной

Изучение дисциплины «Экономика» направлено на формирование следующих компетенций:

Коды компетенции согласно ФГОС (ОПОП ВО)	Содержание компетенций согласно ФГОС (ОПОП ВО)	Индикаторы достижения компетенции согласно ОПОП	Перечень планируемых результатов обучения по дисциплине
1	2	3	4
УК-1	Способен осуществлять поиск, критический анализ и синтез информации, применять системный подход для решения поставленных задач	УК-1.1. Выполняет поиски информации, определяет критерии системного анализа поставленных задач УК - 1.2. Использует критический анализ, систематизацию и обобщение информации для решения поставленных задач	Знать: для достижения УК-1.1.: основные положения и методы экономической науки Уметь: для достижения УК-1.2.: использовать экономические знания для понимания движущих сил, закономерностей и явлений, происходящих в различных сферах деятельности. Владеть: Для достижения УК-1.2.: навыками анализа мотивов и закономерностей деятельности субъектов экономики, ситуаций на конкретных рынках товаров и ресурсов, движения уровня цен и объемов выпуска продукции, а также решения проблемных ситуаций на микро- и макроуровне.
УК-9	Способен принимать обоснованные экономические решения в различных областях жизнедеятельности	УК-9.1. Понимает базовые принципы функционирования экономики и экономического развития, цели и формы участия государства в экономике. УК-9.2. Применяет	Знать: для достижения УК-9.1 базовые принципы функционирования экономики и экономического развития, цели и формы участия государства в экономике. Уметь: для достижения УК-9.1.: прогнозировать на основе эконометрических моделей поведение экономических агентов, развитие экономических процессов и явлений, на микро- и макроуровне Владеть: Для достижения УК-9.2.: методами



		методы личного экономического и финансового планирования для достижения текущих и долгосрочных финансовых целей, использует финансовые инструменты для управления личными финансами (личным бюджетом), контролирует собственные экономические и финансовые риски.	личного экономического и финансового планирования для достижения текущих и долгосрочных финансовых целей, методами использования финансовых инструментов для управления личными финансами (личным бюджетом), методами контроля собственных экономических и финансовых рисков
ПК-4	Способность формировать упорядоченные сводные массивы статистической информации и осуществлять расчет показателей в соответствии с утвержденными методиками, содержательно интерпретировать полученные результаты, готовить статистические материалы для докладов, презентаций, публикаций	ПК-4.1. Обладает знаниями нормативных документов, касающихся организации статистического учёта, основ экономической статистики, методов анализа показателей работы предприятия, форм первичных документов по статистическому учёту и отчётности, методики формирования входных и выходных массивов статистических данных, методики расчёта статистических показателей ПК-4.2. Демонстрирует умения подбирать исходные данные для осуществления расчётов, рассчитывать сводные, агрегированные и производные статистические показатели в соответствии с утверждёнными методиками, анализировать	Знать: Для достижения ПК-4.1: основные экономические показатели и методики их статистического расчёта Уметь: Для достижения ПК-4.2: формировать массивы статистической информации, проводить статистический анализ Владеть: Для достижения ПК-4.3: навыками расчёта статистических показателей и интерпретации результатов расчёта по установленным методикам



		результаты расчётов, контролировать качество и согласованность полученных результатов, консультировать организации о принципах и процедурах статистической регистрации ПК-4.3. Имеет практический опыт (навыки) формировать корректные входные и выходные массивы статистических данных, применения методов обработки статистических данных, рассчитывать сводные, агрегированные и производные статистические показатели, анализировать результаты расчётов, формировать доклады, презентации и публикации, консультировать организации о принципах и процедурах статистической регистрации.	
--	--	---	--

3. СОДЕРЖАНИЕ ОЦЕНОЧНЫХ СРЕДСТВ ПО ДИСЦИПЛИНЕ

3.1 Виды оценочных средств

№ п/п	Код компетенции/ планируемые результаты обучения	Контролируемые темы/ разделы	Наименование оценочного средства для текущего контроля	Наименование оценочного средства на промежуточной аттестации/№ задания
1	Знать: для достижения УК-1.1.: основные положения и методы экономической науки, методы поиска информации в сфере экономики, методы определения экономических	Введение в экономику.	домашняя работа; -тестирование - подготовка реферата	Вопросы теста 1-25



	<p>критериев при системном анализе поставленных задач</p> <p>Уметь: для достижения УК-1.2.: использовать экономические знания для понимания движущих сил, закономерностей и явлений, происходящих в различных сферах деятельности.</p> <p>Владеть: Для достижения УК-1.2.: навыками анализа мотивов и закономерностей деятельности субъектов экономики, ситуаций на конкретных рынках товаров и ресурсов, движения уровня цен и объемов выпуска продукции, а также решения проблемных ситуаций на микро- и макроуровне.</p>			
2	<p>Знать: для достижения УК-9.1 базовые принципы функционирования экономики и экономического развития, цели и формы участия государства в экономике.</p> <p>Уметь: для достижения УК-9.1.: использовать базовые принципы функционирования экономики и экономического развития в целях прогнозирования экономических процессов и явлений на микро- и макроуровне.</p> <p>Владеть: Для достижения УК-9.1.: навыками личного экономического и финансового планирования для достижения текущих и долгосрочных финансовых целей.</p>	Основы микроэкономики.	домашняя работа; -тестирование - подготовка реферата	Вопросы теста 26-169
3	<p>Знать: для достижения УК-9.1 базовые принципы функционирования экономики и экономического развития, цели и формы участия государства в экономике.</p> <p>Уметь: для достижения УК-9.1.: использовать базовые принципы функционирования экономики и</p>	Основы макроэкономики.	-домашняя работа; -тестирование - подготовка реферата	Вопросы теста 170-214



	экономического развития в целях прогнозирования экономических процессов и явлений на микро- и макроуровне. Владеть: Для достижения УК-9.1.: навыками личного экономического и финансового планирования для достижения текущих и долгосрочных финансовых целей.			
--	---	--	--	--

Типовые задания, критерии и показатели оценивания в рамках текущего контроля представлены в рабочей программе дисциплины (модуля). Полные комплекты оценочных средств и контрольно-измерительных материалов хранятся на кафедре.

3.2 Содержание оценочных средств

3.2.1. База тестовых вопросов для промежуточной аттестации

№ п /п	Формулировка вопроса	Варианты ответов (полужирным шрифтом – верные варианты)
Раздел 1. Введение в экономику		
1	Какие категории можно использовать для описания термина «экономика»	1. наука; 2. совокупность экономических отношений между людьми; 3. хозяйство; 4. все вышеперечисленные.
2	Микроэкономика не изучает...	1. поведение агрегированных экономических агентов на агрегированных рынках; 2. ситуации в отдельных отраслях промышленности; 3. поведение отдельных экономических агентов; 4. изменение цен и количеств на рынках взаимосвязанных товаров.
3	А. Смит является автором труда...	1. «Капитал»; 2. «Исследование о природе и причинах богатства народов»; 3. «Теория праздного класса»; 4. «Распределение богатства».
4	Представителю какого направления экономической науки принадлежит высказывание: «Природа – мать, а труд – отец всякого богатства»?	1. меркантилизм; 2. классическая политическая экономия; 3. марксистская политическая экономия; 4. маржинализм.
5	Меркантилизм поддерживал развитие ...	1. торговли; 2. земледелия; 3. промышленности; 4. науки.
6	Принцип «невидимой руки» рынка	1. А. Смит;



	сформулировал...	<ol style="list-style-type: none">2. К. Маркс;3. Дж. М. Кейнс;4. Аристотель.
7	Согласно учению Ф.Кене о «чистом продукте», последний создается в...	<ol style="list-style-type: none">1. бизнесе;2. торговле;3. сельском хозяйстве;4. промышленности.
8	Представителем экономической науки, который выступил за необходимость государственного регулирования экономики, является...	<ol style="list-style-type: none">1. Д. Рикардо;2. Дж. М. Кейнс;3. А. Пигу;4. В. Парето.
9	Метод научного исследования, при котором происходит разделение объекта на отдельные элементы и изучение взаимосвязей между ними – это...	<ol style="list-style-type: none">1. абстракция;2. анализ;3. синтез;4. эксперимент.
10	Метод экономической науки, результатом которого являются экономические понятия, категории, законы – ...	<ol style="list-style-type: none">1. моделирование;2. эксперимент;3. абстракция;4. анализ.
11	Индукция – это метод познания основанный...	<ol style="list-style-type: none">1. на умозаключениях от общего к частному;2. на выделении сущностных характерных черт экономического явления;3. на разделении экономического явления на отдельные части;4. на умозаключениях от частного к общему.
12	Общность экономических законов и законов природы состоит в том, что они:	<ol style="list-style-type: none">1. создаются людьми и используются в практической деятельности;2. устанавливаются государством для регулирования экономики;3. действуют независимо от воли и сознания людей;4. действуют стихийно.
13	Не относится к первичным потребностям...	<ol style="list-style-type: none">1. еда;2. одежда;3. образование;4. жилье.
14	Ограниченность ресурсов – это проблема, которая...	<ol style="list-style-type: none">1. существует только в бедных странах;2. связана с определенными типами экономических систем;3. никогда не возникает в богатых странах;4. существует во всех странах.
15	Кривая производственных возможностей показывает:	<ol style="list-style-type: none">1. различные комбинации факторов производства;2. преимущества производства одного товара перед другим;3. изменения в цене различных товаров;4. альтернативные издержки производства двух благ.
16	Выпуклость кривой производственных возможностей определяется законом...	<ol style="list-style-type: none">1. экономии времени;2. спроса и предложения;3. убывающей предельной полезности;



		4. возрастающих альтернативных издержек.
1 7	Перемещению кривой производственных возможностей вправо может способствовать	1. научно-технический прогресс; 2. уменьшение инфляции; 3. сокращение безработицы; 4. снижение дифференциации доходов.
1 8	Альтернативные издержки нового спортивного комплекса – это:	1. оплата его охраны и оплата труда работающего персонала; 2. цена строительства спорткомплекса; 3. цена товаров и услуг, производство которых принесено в жертву строительству этого комплекса; 4. расходы на оборудование комплекса.
1 9	Каковы ваши альтернативные затраты на обучение в вузе?	1. расходы на проезд до места обучения и обратно; 2. потери в зарплате из-за посещения занятий; 3. расходы на питание; 4. стоимость отдыха во время перерыва между занятиями.
2 0	Какое из перечисленных благ является экономическим?	1. выпеченный хлеб; 2. солнечный свет; 3. уголь в недрах земли; 4. звезды на небе.
2 1	Товарное хозяйство – это:	1. изолированное хозяйство, не прибегающее к обмену; 2. хозяйство, основанное на разделении труда по полу и возрасту людей, удовлетворяющих потребности собственным трудом; 3. хозяйство, в котором обособленные товаропроизводители специализируются на определенных продуктах и обмениваются ими на рынке; 4. общественное хозяйство, в котором продукты изготавливают обособленные производители для удовлетворения своих потребностей.
2 2	В условиях товарного производства продукция выпускается с целью:	1. удовлетворения потребностей товаропроизводителя; 2. безвозмездной передачи ее другим; 3. распределения между участниками производства; 4. обмена на другие блага.
2 3	Товар – это:	1. вещь, способная удовлетворять те или иные потребности людей; 2. продукт, созданный для собственного потребления; 3. продукт труда, который предназначен для продажи; 4. вещь, приносящая прибыль владельцу.
2 4	Владельцы факторов производства получают доходы в виде:	1. заработной платы, рентных выплат, процента, прибыли; 2. пенсий, стипендий, субсидий, страховых выплат; 3. налогов, отчислений, рентных выплат,

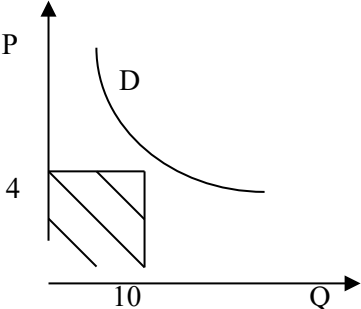


		трансфертных платежей; 4. все перечисленное верно.
2 5	Способность товара удовлетворять ту или иную потребность человека характеризует...	1. меновую стоимость товара; 2. цену товара; 3. потребительную стоимость товара; 4. общественную стоимость товара.
Раздел 2. Микроэкономика		
2 6	К функциям рынка относится...	1. распределение ресурсов; 2. стимулирование научно-технического прогресса; 3. распределение доходов; 4. все перечисленное верно.
2 7	Ценовая конкуренция предполагает...	1. продажу товаров и услуг по ценам выше, чем у конкурентов; 2. продажу товаров и услуг по ценам ниже, чем у конкурентов; 3. увеличение расходов на рекламу; 4. продажу товаров более высокого качества и надежности.
2 8	Свобода входа и выхода из отрасли означает:	1. отсутствуют юридические и экономические барьеры; 2. создание новых фирм возможно только после получения разрешения администрации города; 3. для создания фирмы требуются большие капиталы; 4. для создания фирмы достаточно купить сложные технологические системы.
2 9	Если условия совершенной конкуренции выполняются на рынке, то...	1. фирмы не получают экономической прибыли; 2. потребители располагают не полной информацией о рынке; 3. отраслевые барьеры не препятствуют проникновению на рынок новых фирм; 4. фирмы не оказывают влияние на рыночную цену.
3 0	Структура рынка, на котором действуют несколько крупных покупателей, называется...	1. олигополия; 2. монополия; 3. олигопсония; 4. монопсония.
3 1	Монополистическая конкуренция характеризуется тем, что:	1. фирмы не могут свободно входить и выходить с рынка; 2. на рынке действует ограниченно число фирм; 3. фирмы, действующие на рынке, выпускают дифференцированную продукцию; 4. на рынке действует одна фирма.
3 2	Как называется рыночная структура, в которой действует небольшое количество крупных фирм, защищенных от конкурентов входными барьерами и производящих однородную или дифференцированную продукцию?	1. монополия; 2. олигополия; 3. совершенная конкуренция; 4. монополистическая конкуренция.
3 3	Закон предложения при росте цены и прочих равных условиях проявляется:	1. в изменении предложения; 2. в росте величины предложения;



		<ol style="list-style-type: none">3. в сокращении объема предложения;4. в росте спроса.
<ol style="list-style-type: none">34	В результате роста доходов потребителей:	<ol style="list-style-type: none">1. величина спроса возросла;2. спрос уменьшился;3. величина спроса уменьшилась;4. спрос увеличился.
<ol style="list-style-type: none">35	Законы спроса и предложения действуют на рынке:	<ol style="list-style-type: none">1. товарном;2. ресурсов;3. валютном;4. любом.
<ol style="list-style-type: none">36	На рынке шоколада установилось равновесие. Это означает, что:	<ol style="list-style-type: none">1. на рынке отсутствует излишек шоколада;2. правительство ввело нижний предел цен на шоколад;3. количество требуемого шоколада равно величине его предложения;4. кривые спроса и предложения не имеют точек пересечения.
<ol style="list-style-type: none">37	С ростом дохода потребителя его спрос на товары Гиффена:	<ol style="list-style-type: none">1. возрастает;2. уменьшается;3. остается неизменным;4. меняется по синусоиде.
<ol style="list-style-type: none">38	При рыночной цене выше равновесной:	<ol style="list-style-type: none">1. величина предложения превышает величину спроса;2. спрос меньше предложения;3. величина спроса превышает величину предложения;4. равновесная цена выше цены товара.
<ol style="list-style-type: none">39	Товар можно отнести к низшим, если ...	<ol style="list-style-type: none">1. эластичность спроса по доходу равна (-0,4)2. эластичность спроса по цене равна 1,23. эластичность спроса по доходу равна 1,54. перекрестная эластичность равна 0,2
<ol style="list-style-type: none">40	Рынок свидетельствует об увеличении спроса на товары путем...	<ol style="list-style-type: none">1. снижения цен;2. роста цен;3. увеличения сбережений;4. увеличения предложения.
<ol style="list-style-type: none">41	Величина предложения автомобилей – это...	<ol style="list-style-type: none">1. количество автомобилей на складах всех предприятий и во всех автосалонах при данном уровне цен;2. сумма денег, которую хотят получить за автомобили производители;3. количество автомобилей, которое производители готовы продать по данной цене;4. количество автомобилей, которое покупатели хотят купить по данной цене.
<ol style="list-style-type: none">42	Изменение величины спроса на данный товар, вызванное изменением реального дохода в результате роста или снижения его цены, называется эффектом	<ol style="list-style-type: none">1. замещения;2. дохода;3. сноба;4. присоединения к большинству.
<ol style="list-style-type: none">43	К элементам рыночного механизма не относят...	<ol style="list-style-type: none">1. директивное планирование;2. свободные цены;



		<ol style="list-style-type: none">конкуренцию;спроси предложение.
4 4	К рынку олигополии относится рынок...	<ol style="list-style-type: none">автомобилей;верхней одежды;акций фирмы;зерна.
4 5	Кривая предложения показывает зависимость между:	<ol style="list-style-type: none">величиной издержек и ценой товара;ростом населения и объемом предложения;изменением дохода населения и объемом предложения;ценой товара и объемом предложения.
4 6	Сдвиг кривой предложения вправо может вызвать:	<ol style="list-style-type: none">повышение налогов на производителей;увеличение затрат на используемые ресурсы;использование более производительной техники;увеличение доходов потребителей.
4 7	Что показывает заштрихованный прямоугольник на графике? 	<ol style="list-style-type: none">величину спроса;объем продаж;возможную выручку, при цене равной 4;неудовлетворенный спрос на товар, равный 10.
4 8	Если спрос на «Анальгин» неэластичный, то 5%-е падение его цены приведет к следующему изменению его продаж на рынке:	<ol style="list-style-type: none">объем продаж сократится менее чем на 5%;объем продаж увеличится менее чем на 5%;объем продаж увеличится на 5%;объем продаж увеличится более чем на 5%.
4 9	Если кривая предложения перемещается на графике вправо, то это означает, что произошло:	<ol style="list-style-type: none">увеличение предложения;сокращение спроса;увеличение величины предложения;уменьшение величины предложения.
5 0	Увеличение спроса и сокращение предложения приведут к:	<ol style="list-style-type: none">увеличению равновесной цены и увеличению равновесного количества;уменьшению равновесной цены и уменьшению равновесного количества;увеличению равновесной цены и неопределенному эффекту в отношении равновесного количества;уменьшению равновесной цены и неопределенному эффекту в отношении равновесного количества.
5 1	Сдвиг кривой спроса влево при прочих равных условиях ведет к:	<ol style="list-style-type: none">понижению цены равновесия;повышению цены равновесия;сохранению прежней цены равновесия;



		4. повышению величины предложения.
5 2	Яблоки и груши являются товарами-заменителями. При прочих равных условиях увеличение цены на яблоки приведет к:	1. смещению кривой спроса на груши влево; 2. уменьшению количества проданных груш; 3. сдвигу кривой спроса на груши вправо; 4. перемещению по кривой спроса на груши, в результате чего повысится их цена и объем продаж.
5 3	Увеличение спроса на велосипеды означает, что:	1. вследствие падения цены на велосипеды объем спроса на них вырос; 2. кривая спроса смещается вправо; 3. кривая предложения смещается вправо; 4. все утверждения неверны.
5 4	Рост дохода потребителя на 1% вызывает сокращение спроса на товар на 2%. Это характеризует товар как ...	1. предмет роскоши; 2. низший товар; 3. предмет первой необходимости; 4. нормальный.
5 5	Перемещение по кривой предложения сока «Добрый» будет происходить, если изменятся:	1. субсидии фирме-производителю; 2. цены на другие марки соков; 3. цена сока «Добрый»; 4. вкусы потребителей.
5 6	Сдвиг кривой предложения вправо может вызвать:	1. повышение налогов на производителей; 2. увеличение затрат на используемые ресурсы; 3. использование более производительной техники; 4. увеличение доходов потребителей.
5 7	Полезность – это...	1. свойство товара приносить какую-либо пользу в процессе его использования; 2. дешевизна товара; 3. доступность товара; 4. многообразие товаров.
5 8	Принцип убывания предельной полезности может быть использован для случаев, когда...	1. разные потребители потребляют по одной единице одного и того же товара; 2. один и тот же потребитель потребляет несколько единиц одного и того же товара; 3. один и тот же потребитель потребляет по одной единице разных товаров; 4. один и тот же продавец продает несколько единиц одного и того же товара разным покупателям.
5 9	Наклон бюджетной линии определяется	1. количеством потребляемых товаров; 2. соотношением предельных полезностей товаров в точке равновесия потребителя; 3. соотношением цен товаров; 4. соотношением общих полезностей товаров в точке равновесия потребителя.
6 0	При соблюдении какого из ниже перечисленных условий выполняется равновесие потребителя:	1. когда кривая безразличия имеет две точки пересечения с бюджетной линией; 2. когда кривая безразличия не пересекается с бюджетной линией; 3. когда кривая безразличия касается бюджетной линии в одной единственной точке; 4. когда пересекаются кривые безразличия.



6 1	Если цена на яблоки снижается, то увеличение количества покупаемых яблок приведет к:	1. снижению общей полезности купленных яблок 2. уменьшению общей полезности ровно на одно яблоко 3. увеличению предельной полезности яблок 4. понижению предельной полезности яблок.
6 2	Наборы благ, имеющие одинаковую полезность, лежат на:	1. одной бюджетной линии; 2. одной кривой безразличия; 3. одной кривой спроса; 4. одной кривой предложения.
6 3	По мере роста общей полезности от потребления товара предельная полезность:	1. повышается; 2. понижается; 3. достигает максимума; 4. равна нулю.
6 4	Кривая безразличия показывает:	1. все сочетания благ, при которых общая сумма затрат равна доходу; 2. различные наборы товаров и услуг; 3. все множество комбинаций двух благ, имеющих одинаковую полезность для потребителя.
6 5	Производственная функция показывает:	1. какие затраты нужно осуществить на тот или иной объем выпуска; 2. наиболее выгодный для фирмы выпуск при данных ценах на ресурсы; 3. максимальное количество продукта, которое можно получить, используя различные сочетания ресурсов; 4. минимальное количество продукции, которое можно получить, используя данное сочетание ресурсов.
6 6	Если объем выпуска увеличивается в пропорции, большей, чем увеличение факторов производства, то в этом случае говорят, что имеет место:	1. нейтральный эффект масштаба; 2. убывающий эффект масштаба; 3. возрастающий эффект масштаба; 4. отсутствие эффекта масштаба.
6 7	Если при увеличении факторов производства в 3 раза объем выпуска продукции увеличился в 2,5 раза, то в этом случае говорят, что имеет место:	1. нейтральный эффект масштаба; 2. убывающий эффект масштаба; 3. возрастающий эффект масштаба; 4. отсутствие эффекта масштаба.
6 8	Кривая, представляющая бесконечное множество комбинаций факторов производства, обеспечивающих одинаковый выпуск продукции, называется...	1. изокоста; 2. предельная норма технического замещения; 3. изокванта; 4. кривая производственных возможностей
6 9	Изокоста – это линия, которая указывает:	1. множество комбинаций цен на ресурсы; 2. множество всех комбинаций ресурсов, которые могли быть приобретены предприятием при определенной сумме расходов; 3. множество всех комбинаций ресурсов, которые могут быть использованы в производстве одного продукта; 4. множество всех комбинаций ресурсов, которые могут быть использованы в производстве двух и



		более продуктов.
7 0	Нормальная прибыль является...	1. доходом государства; 2. элементом бухгалтерских издержек; 3. элементом экономических издержек; 4. такого вида прибыли нет.
7 1	VC производства:	1. отсутствуют в долгосрочном периоде; 2. изменяются с изменением объема выпуска продукции; 3. имеют место, даже если у фирмы нулевой объем выпуска; 4. сокращаются по мере увеличения объема производства.
7 2	Общие издержки – это:	1. $MC + AC$; 2. $AFC + AVC$; 3. $FC + VC$; 4. $AMC + AVC$.
7 3	Средние издержки – это:	5. $MC + AC$; 6. $AFC + AVC$; 7. $FC + VC$; 8. $AMC + AVC$;
7 4	Бухгалтерские издержки – это:	1. явные издержки; 2. затраты в денежной форме, необходимые для приобретения фирмой ресурсов; 3. выплаты поставщикам, не являющимся собственниками фирмы; 4. все перечисленное верно.
7 5	Экономические издержки – это:	1. бухгалтерские издержки + безвозвратные издержки; 2. явные издержки + нормальная прибыль; 3. бухгалтерские издержки + явные издержки; 4. явные издержки + неявные издержки + нормальная прибыль.
7 6	Переменные издержки — это:	1. затраты, имеющие место вне зависимости от изменения объема выпускаемой продукции; 2. затраты, меняющиеся в зависимости от объема выпускаемой продукции; 3. явные и неявные издержки; 4. альтернативные издержки производства.
7 7	Средние общие издержки – это:	1. совокупные затраты, приходящиеся на единицу продукции; 2. сумма средних постоянных и средних переменных издержек; 3. минимальные затраты на единицу продукции; 4. верны ответы 1) и 2).
7 8	Максимальную прибыль фирма, работающая на рынке совершенной конкуренции, получит при...	1. равенстве общего дохода и общих издержек; 2. равенстве предельного дохода предельным издержкам; 3. превышении предельного дохода над средними издержками; 4. превышении общего дохода над общими



		издержками.
7 9	Какие издержки относятся к переменным?	<ol style="list-style-type: none">1. расходы на сырье;2. расходы на управленческий персонал;3. расходы на оплату кредита;4. плата за лицензию на ведение деятельности.
8 0	В какой последовательности происходит смена форм капитала в процессе его кругооборота	<ol style="list-style-type: none">1. производительная, товарная, денежная;2. денежная, производительная, товарная;3. денежная, товарная, производительная;4. товарная, денежная, производительная.
8 1	Основной капитал – это:	<ol style="list-style-type: none">1. недвижимость;2. здания, оборудование и рабочая сила;3. капитал, который участвует в нескольких производственных циклах;4. капитал, который участвует в одном производственном цикле.
8 2	Оборотный капитал – это:	<ol style="list-style-type: none">1. капитал, который участвует в одном производственном цикле;2. капитал, который участвует в нескольких производственных циклах;3. капитал, для которого характерен физический и моральный износ;4. здания, оборудование, инструменты.
8 3	Износ основных средств в денежном выражении – это:	<ol style="list-style-type: none">1. амортизация;2. эффективность использования оборудования;3. моральный износ;4. срок службы основных средств.
8 4	Амортизация – это:	<ol style="list-style-type: none">1. процесс выплаты арендной платы;2. процесс износа и возобновления оборотного капитала;3. процесс износа и возобновления основного капитала;4. процесс накопления капитала.
8 5	Предложение земли ...	<ol style="list-style-type: none">1. эластично;2. обладает единичной эластичностью;3. может быть эластичным и неэластичным;4. неэластично.
8 6	Земельная рента, связанная с естественным плодородием земель, называется...	<ol style="list-style-type: none">1. абсолютная рента;2. дифференциальная рента I вида;3. дифференциальная рента II вида;4. производственная рента.
8 7	Какова причина возникновения дифференциальной ренты?	<ol style="list-style-type: none">1. монополия частной собственности на землю;2. наличие разных по плодородию и местоположению земель;3. ограниченность земель;4. монополия на землю как объект хозяйства.
8 8	Кто присваивает дифференциальную ренту I:	<ol style="list-style-type: none">1. собственник земли;2. арендатор;3. государство;4. местные органы власти.



8 9	Амортизационные отчисления включаются в:	1. прибыль от реализации продукции; 2. затраты на производство продукции; 3. затраты на ремонт; 4. нет правильного ответа.
9 0	Моральный износ наступает вследствие:	1. появления рабочей силы высокой квалификации; 2. появления нового более производительного оборудования; 3. потери рабочих качеств; 4. все ответы верны.
9 1	Установление текущей дисконтированной стоимости - это процедура, позволяющая:	1. устранить влияние инфляции на оценку будущих доходов; 2. установить сегодняшнюю стоимость будущих доходов; 3. установить величину банковских процентов в данном периоде; 4. выбрать наилучший инвестиционный проект.
9 2	Амортизационные отчисления включаются в:	1. прибыль от реализации продукции; 2. себестоимость продукции; 3. затраты на ремонт; 4. нет правильных ответов.
9 3	Основные функции зарплаты – это:	1. стимулирующая, регулирующая, социальная; 2. информационная, контрольная, оздоравливающая (санирующая); 3. воспроизводственная, стимулирующая, социальная; 4. распределение ресурсов, стимулирование НТП, распределение доходов.
9 4	Часовая ставка заработной платы наемного работника возрастает. Это приведет к тому, что:	1. предложение его труда упадет; 2. предложение его труда возрастет; 3. предложение его труда останется неизменным; 4. предложение его труда сначала возрастет, а затем может сократиться.
9 5	В какой последовательности происходит смена форм капитала в процессе его кругооборота	1. производительная, товарная, денежная; 2. денежная, производительная, товарная; 3. денежная, товарная, производительная; 4. товарная, денежная, производительная.
9 6	Основной капитал – это:	1. недвижимость; 2. здания, оборудование и рабочая сила; 3. капитал, который участвует в нескольких производственных циклах; 4. капитал, который участвует в одном производственном цикле.
9 7	Оборотный капитал – это:	1. капитал, который участвует в одном производственном цикле; 2. капитал, который участвует в нескольких производственных циклах; 3. капитал, для которого характерен физический и



		моральный износ; 4. здания, оборудование, инструменты.
9 8	Износ основных средств в денежном выражении – это:	1. амортизация; 2. эффективность использования оборудования; 3. моральный износ; 4. срок службы основных средств.
9 9	Амортизация – это:	1. процесс выплаты арендной платы; 2. процесс износа и возобновления оборотного капитала; 3. процесс износа и возобновления основного капитала; 4. процесс накопления капитала.
1 0 0	Предложение земли ...	1. эластично; 2. обладает единичной эластичностью; 3. может быть эластичным и неэластичным; 4. неэластично.
1 0 1	Земельная рента, связанная с естественным плодородием земель, называется...	1. абсолютная рента; 2. дифференциальная рента I вида; 3. дифференциальная рента II вида; 4. производственная рента.
1 0 2	Какова причина возникновения дифференциальной ренты?	1. монополия частной собственности на землю; 2. наличие разных по плодородию и местоположению земель; 3. ограниченность земель; 4. монополия на землю как объект хозяйства.
1 0 3	Кто присваивает дифференциальную ренту I:	1. собственник земли; 2. арендатор; 3. государство; 4. местные органы власти.
1 0 4	Амортизационные отчисления включают в:	1. прибыль от реализации продукции; 2. затраты на производство продукции; 3. затраты на ремонт; 4. нет правильного ответа.
1 0 5	Общественными благами называются...	1. блага, вовлеченные в процесс общественного производства; 2. блага, не исключаемые из потребления и неконкурентные в потреблении; 3. совокупность природных социальных и духовных сил, которые могут быть использованы в процессе общественного производства; 4. блага, имеющиеся в ограниченном количестве.
1 0 6	Что из перечисленного не является общественным благом:	1. маяки; 2. электроэнергия; 3. полиция; 4. защита от наводнений в масштабах страны.
1 0 7	Что из перечисленного Вы отнесете к общественным благам:	1. охрана правопорядка в городе; 2. автостоянки; 3. ипподромы; 4. теннисные корты.



1 0 8	Какое из перечисленных ниже благ Вы отнесете частным?	1. противоракетная оборона; 2. парк культуры и отдыха; 3. освещение улиц; 4. проезд в электричке.
1 0 9	Что из названного характеризует отрицательный внешний эффект	1. задержка заработной платы рабочим на предприятии; 2. уплата налога за загрязнение окружающей среды; 3. строительство очистных сооружений; 4. увеличение выбросов в атмосферу в результате роста объемов производства.
1 1 0	Фиаско рынка проявляется в ...	1. неспособности уравнивать спрос и предложение товаров и услуг; 2. отсутствии стимулов к созданию (производству) товаров и услуг коллективного пользования; 3. отсутствии механизмов «вымывания» неконкурентоспособных предприятий; 4. неспособности сигнализировать фирмам об объемах и структуре производства.
1 1 1	К провалам рынка не относится ...	1. неэффективная экономическая политика государства; 2. наличие отрицательных внешних эффектов; 3. неравенство в распределении доходов; 4. монопольная власть производителей.
1 1 2	Какой ситуацией характеризуется Парето-эффективность?	1. когда фирма максимизирует выпуск продукции; 2. когда какой-то работник работает эффективно; 3. когда никто не может улучшить свое состояние, не ухудшая положение хотя бы одного из участников рынка; 4. когда максимизируется полезность.
1 1 3	Аллокативная неэффективность представляет собой...	1. возвратные потери благосостояния общества; 2. невозвратные потери благосостояния общества; 3. низкую заработную плату работников предприятия; 4. низкую прибыль.
1 1 5	Производный спрос на фактор производства определяется:	1. спросом на другие факторы; 2. производительностью фактора; 3. спросом на продукт, производимый при помощи фактора; 4. предельной производительностью фактора.
1 1 6	На основе какой функции денег возникают кредитные деньги:	1. средство платежа; 2. мера стоимости; 3. средство обращения; 4. мировые деньги.
1 1 7	Укажите, какую функцию выполняют деньги, когда безработный получает пособие по безработице. В этом случае деньги выполняют функцию:	1. средства обмена; 2. средства платежа; 3. средства накопления; 4. меры стоимости.
1 1	Способность товара обмениваться в определенных количественных	1. меновую стоимость; 2. цену;



8	соотношения на другой товар характеризует его...	3. потребительную стоимость; 4. общественную стоимость.												
1 1 9	Какое из утверждений относится к микроэкономике?	1. рост уровня цен за рубежом сокращает объем потребительских расходов внутри страны; 2. рост инфляции привел к сокращению инвестиций; 3. неурожай мандаринов в 2015 привел к повышению цен на мандарины; 4. за 2015 год уровень цен на потребительские товары в нашей стране вырос в 2,5 раза.												
1 2 0	Если процесс производства экономического блага может быть отделен от процесса его потребления, то данное благо является	1. товаром; 2. услугой; 3. свободным благом; 4. экономическим ресурсом.												
1 2 1	Страна производит автомобили и пушки <table border="1" style="width: 100%; border-collapse: collapse;"> <tr> <td>Автомобили</td> <td>4</td> <td>3</td> <td>2</td> <td>1</td> <td>0</td> </tr> <tr> <td>Пушки</td> <td>0</td> <td>5</td> <td>10</td> <td>15</td> <td>20</td> </tr> </table> Определите альтернативные издержки производства одной пушки	Автомобили	4	3	2	1	0	Пушки	0	5	10	15	20	1. 1 автомобиль; 2. 3/5 автомобиля; 3. 4 автомобиля; 4. 1/5 автомобиля.
Автомобили	4	3	2	1	0									
Пушки	0	5	10	15	20									
1 2 2	Что из перечисленного ниже НЕ является производственным ресурсом?	1. металлорежущий станок; 2. алюминиевая руда; 3. работник сферы образования; 4. банковский кредит.												
1 2 3	Отличие наличных денег от других активов в том, что ...	1. номинальная стоимость наличных денег уменьшается в результате инфляции; 2. наличные деньги наиболее ликвидны; 3. номинальная стоимость наличных денег увеличивается в результате инфляции; 4. наличные деньги лучше других активов выполняют функцию сохранения ценности.												
1 2 4	Из-за нехватки денег вы вынуждены купить несколько дорогих, но красивых тетрадей и несколько тетрадей более дешевых. Вы столкнулись...	1. с проблемой ограниченности ресурсов; 2. с проблемой ограниченности ресурсов и необходимостью компромиссного выбора; 3. с проблемой ограниченности ресурсов, необходимостью компромиссного выбора и оценкой альтернативной стоимости; 4. с проблемой ограниченности ресурсов и оценкой альтернативной стоимости.												
1 2 5	Если два товара взаимозаменяемы, например, чай и кофе, то рост цены на кофе приведет к:	1. росту спроса на чай; 2. падению спроса на чай; 3. увеличению объема спроса на чай; 4. снижению величины спроса на чай.												
1 2 6	Какой из перечисленных факторов не приводит к созданию монополии	1. производство и сбыт товара, имеющего много близких субститутов; 2. лицензии; 3. авторские права; 4. контроль над единственным источником товара.												
1 2	Какие из фирм будут располагать большей свободой действий при	1. одна из трех компаний данной отрасли; 2. единственный производитель товара, для которого												

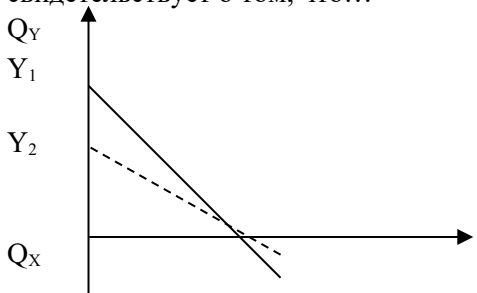
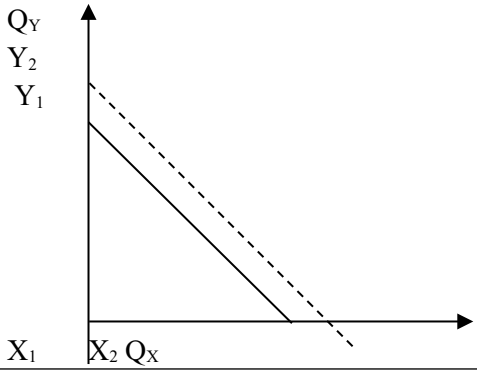
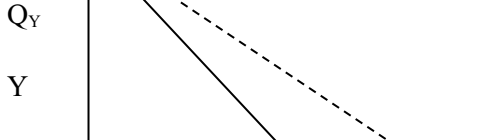


7	установлении цен на свою продукцию?	существует множество заменителей; 3. единственный производитель товара, для которого не существует заменителей; 4. одна из трехсот фирм данной отрасли?
1 2 8	Эластичность спроса на товар X по цене товара Y равна 1,8. Если цена товара Y вырастет на 2%, то как изменится спрос на товар X?	1. 2% 2. 3% 3. 3,6% 4. 36,6%
1 2 9	Фирма продавала 10 пачек чая по цене 100 руб. Когда цена понизилась до 90 руб., то объем продаж составил 12 пачек чая. Это свидетельствует о том, что:	1. фирма понесла убытки; 2. спрос по цене неэластичен; 3. суммарная выручка выросла на 80 руб.; 4. суммарная выручка выросла на 100 руб.
1 3 0	Даны функции спроса и предложения товара: $Q_D = 3000 - 2P$, $Q_S = -500 + 3P$. Равновесный объем и равновесная цена составят:	1. 1900 и 800; 2. 1600 и 400; 3. 1600 и 700; 4. 1400 и 700.
1 3 1	Определите, какое из событий, приводимых ниже, будет влиять на цену говядины не так, как остальные три:	1. врачи не рекомендуют есть много говядины; 2. снизится цена на свинину; 3. резко снизится стоимость кормов для крупного рогатого скота; 4. появился незнакомый науке вирус, содержащийся в мясе птицы.
1 3 2	Если вновь вошли в моду туфли на высоком каблуке, то на соответствующем рынке увеличатся...	1. и предложение, и спрос; 2. предложение и величина спроса; 3. величина предложения и спрос; 4. величина предложения и величина спроса.
1 3 3	Цена товара будет падать, если:	1. имеется его избыток на рынке; 2. текущая рыночная цена выше равновесной; 3. количество предложения товара превышает количество спроса на него по текущей цене; 4. все вышеуказанные факторы верны.
1 3 4	Цена на товар возросла с 3000 до 3600 рублей. При этом величина спроса снизилась на 20%. Можно сказать, что спрос...	1. эластичен по цене; 2. не эластичен по цене; 3. имеет единичную эластичность; 4. эластичен по доходу.
1 3 5	Цена настольных ламп повысилась с 2000 до 2200 руб., в результате величина спроса упала с 88 до 80 штук. Это свидетельствует о том, что спрос на настольные лампы в данных ценовых пределах:	1. абсолютно эластичен; 2. абсолютно не эластичен; 3. эластичен; 4. неэластичен.
1 3 6	Базовая выручка фирмы составляет 3000 рублей, при этом цена равна 15 руб., объем продаж 200 единиц. Фирма производит товар эластичного спроса: $E=1,5$. Если фирма уменьшит цену на 2%, то какова будет величина выручки в этом случае?	1. 2090; 2. 3060; 3. 3090; 4. 3900.




1 3 7	Если эластичность спроса по цене 2,5, а спрос увеличился на 10%. то процентное изменение цены составит...	1. 10% 2. 5% 3. 4% 4. 3%
1 3 8	Функции спроса и предложения для товара имеют вид $Q_D = 900 - 0,1P$, $Q_S = -600 + 0,2P$. Равновесная цена и равновесное количество составят...	1. 5000 и 400; 2. 4000 и 500; 3. 8000 и 400; 4. 5000 и 500.
1 3 9	Одновременный рост предложения на 12% и спроса на 40% приведет к:	1. снижению цены и увеличению количества товаров; 2. установлению стабильной цены и увеличению количества товаров; 3. снижению цены и уменьшению количества товаров; 4. росту цены и увеличению количества товаров.
1 4 0	При данной величине спроса технический прогресс в производстве продукта X повлечет за собой:	1. увеличение равновесной цены на продукт X и увеличение равновесного количества; 2. увеличение равновесной цены и уменьшение равновесного количества; 3. уменьшение равновесной цены и уменьшение равновесного количества; 4. уменьшение равновесной цены и увеличение равновесного количества.
1 4 1	Какие значения может принимать коэффициент эластичности спроса по доходу?	1. только положительные; 2. только отрицательные; 3. положительные и отрицательные; 4. положительные для взаимодополняющих товаров и отрицательные для взаимозаменяемых.
1 4 2	Увеличение спроса на велосипеды означает, что:	1. вследствие падения цены на велосипеды объем спроса на них вырос; 2. кривая спроса смещается вправо; 3. кривая предложения смещается вправо; 4. все утверждения неверны.
1 4 3	Нефтяной кризис 70-х гг., когда ОПЕК резко подняла цены на нефть, привел...	1. к увеличению цены на уголь; 2. к увеличению спроса на теплоизоляцию жилых домов; 3. к увеличению заработной платы ученых и техников, занятых энергосберегающими технологиями; 4. ко всему вышеперечисленному.
1 4 4	При увеличении дохода потребителя бюджетная линия...	1. сдвигается параллельно исходному положению вправо вверх; 2. сдвигается параллельно исходному положению влево вниз; 3. не изменяет своего положения; 4. изменяет угол наклона.
1	Рост цен покупаемых потребителем благ	1. смещению кривой безразличия вправо;



4 5	приведет к ...	2. смещению бюджетной линии влево; 3. изменению угла наклона бюджетной линии; 4. смещению бюджетной линии вправо.
1 4 6	Наклон бюджетной линии определяется	1. количеством потребляемых товаров; 2. соотношением предельных полезностей товаров в точке равновесия потребителя; 3. соотношением цен товаров; 4. соотношением общих полезностей товаров в точке равновесия потребителя.
1 4 7	Норма замещения одного товара на другой:	1. эффективная замена одного блага другим; 2. выражает убывающую предельную полезность; 3. равна соотношению цен на товары; 4. показывает количество товара X, которое потребитель согласен отдать за дополнительную единицу товара Y.
1 4 8	На рисунке показана линия бюджетного ограничения потребителя. Смещение линии бюджетного ограничения свидетельствует о том, что... 	1. снизилась цена товара Y; 2. повысилась цена товара Y; 3. доходы потребителя уменьшились; 4. доходы потребителя возросли.
1 4 9	На рисунке показана линия бюджетного ограничения потребителя. Смещение линии бюджетного ограничения свидетельствует о том, что... 	1. доходы потребителя уменьшились; 2. доходы потребителя возросли; 3. снизилась цена товара X; 4. повысилась цена товара Y.
1 5 0	На рисунке показана линия бюджетного ограничения потребителя. Смещение линии бюджетного ограничения свидетельствует о том, что... 	1. доходы потребителя уменьшились; 2. доходы потребителя возросли; 3. снизилась цена товара X; 4. повысилась цена товара X.



	 $X_1 X_2 Q_x$																									
1 5 1	Точка безубыточности графически соответствует точке пересечения кривых:	1. средних издержек и цены; 2. валовых издержек и валового дохода; 3. средних издержек и валовых издержек; 4. предельных и средних издержек.																								
1 5 2	При производстве продукции могут быть использованы следующие комбинации труда и капитала: <table border="1" data-bbox="271 739 766 884"> <thead> <tr> <th>Варианты</th> <th>A</th> <th>B</th> <th>C</th> </tr> </thead> <tbody> <tr> <td>K</td> <td>200</td> <td>145</td> <td>80</td> </tr> <tr> <td>L</td> <td>20</td> <td>40</td> <td>60</td> </tr> </tbody> </table> <p>Если цена 1 ед. капитального фактора равна 100, а личного – 250 у. е., какая комбинация факторов будет оптимальной?</p>	Варианты	A	B	C	K	200	145	80	L	20	40	60	1. A; 2. B; 3. C; 4. D.												
Варианты	A	B	C																							
K	200	145	80																							
L	20	40	60																							
1 5 3	Функция общих издержек фирмы имеет вид $TC=20Q+4Q^2$. Реализуя продукцию на совершенно конкурентном рынке по цене 100 руб., она получит прибыль в размере ... руб.	1. 350; 2. 500; 3. 450; 4. 400.																								
1 5 4	В приведенной ниже таблице дана информация об издержках на единицу выпускаемой продукции фирмы, действующей на рынке совершенной конкуренции. <table border="1" data-bbox="263 1344 766 1579"> <thead> <tr> <th>Количество единиц продукта, шт.</th> <th>Средние постоянные издержки, руб.</th> <th>Средние переменные издержки, руб.</th> <th>и</th> </tr> </thead> <tbody> <tr> <td>1</td> <td>60</td> <td>45</td> <td></td> </tr> <tr> <td>2</td> <td>30</td> <td>42,5</td> <td></td> </tr> <tr> <td>3</td> <td>20</td> <td>40</td> <td></td> </tr> <tr> <td>4</td> <td>15</td> <td>37,5</td> <td></td> </tr> <tr> <td>5</td> <td>12</td> <td>37</td> <td></td> </tr> </tbody> </table> <p>Если рыночная цена будет 50 рублей, то при производстве 4 единиц продукции фирма получит ___ рублей.</p>	Количество единиц продукта, шт.	Средние постоянные издержки, руб.	Средние переменные издержки, руб.	и	1	60	45		2	30	42,5		3	20	40		4	15	37,5		5	12	37		1. убыток в 160; 2. убыток в 220; 3. убыток в 10; 4. прибыль в 10.
Количество единиц продукта, шт.	Средние постоянные издержки, руб.	Средние переменные издержки, руб.	и																							
1	60	45																								
2	30	42,5																								
3	20	40																								
4	15	37,5																								
5	12	37																								
1 5 5	Функция общих издержек фирмы имеет вид $TC=50Q+2Q^2$. Сколько прибыли получит фирма, реализуя продукцию на совершенно конкурентном рынке по цене 250 рублей.	1. 4000; 2. 4500; 3. 5000; 4. 5300.																								
1 5 6	В краткосрочном периоде фирма производит 500 единиц продукции. Средние переменные издержки составляют 2 долл., средние постоянные издержки – 0,5 долл. Общие издержки	1. 0,25 долл.; 2. 1250 долл.; 3. 750 долл.; 4. 1100 долл.																								



составят...																										
1 5 7	Фирма производит 100 станков в год и продает каждый из них по 50 тыс. ден. ед. Валовые издержки фирм при этом составляют 8 млнден. ед., общие постоянные издержки составляют 2 млн ден. ед., а предельные издержки составляют 50 тыс. ден. ед. Используя эти данные, определите, что должна предпринять фирма:	<ol style="list-style-type: none"> 1. продолжать выпускать станки в прежних размерах; 2. увеличить производство станков; 3. сократить производство станков; 4. прекратить выпуск станков. 																								
1 5 8	<p>В приведенной ниже таблице дана информация об издержках на единицу выпускаемой продукции фирмы, действующей на рынке совершенной конкуренции.</p> <table border="1"> <thead> <tr> <th>Количество единиц продукта, шт.</th> <th>Средние постоянные издержки, руб.</th> <th>Средние переменные издержки, руб.</th> <th>и</th> </tr> </thead> <tbody> <tr> <td>1</td> <td>60</td> <td>45</td> <td></td> </tr> <tr> <td>2</td> <td>30</td> <td>42,5</td> <td></td> </tr> <tr> <td>3</td> <td>20</td> <td>40</td> <td></td> </tr> <tr> <td>4</td> <td>15</td> <td>37,5</td> <td></td> </tr> <tr> <td>5</td> <td>12</td> <td>37</td> <td></td> </tr> </tbody> </table> <p>Если рыночная цена будет 70 рублей, то при производстве 3 единиц продукции фирма получит ___ рублей.</p>	Количество единиц продукта, шт.	Средние постоянные издержки, руб.	Средние переменные издержки, руб.	и	1	60	45		2	30	42,5		3	20	40		4	15	37,5		5	12	37		<ol style="list-style-type: none"> 1. прибыль в 30; 2. убыток в 220; 3. убыток в 10; 4. прибыль в 10.
Количество единиц продукта, шт.	Средние постоянные издержки, руб.	Средние переменные издержки, руб.	и																							
1	60	45																								
2	30	42,5																								
3	20	40																								
4	15	37,5																								
5	12	37																								
1 5 9	Фирма, реализующая продукцию на рынке совершенной конкуренции по цене 50 рублей и имеющая функцию общих издержек $TC=20+10Q+Q^2$ будет производить ... единиц продукции и получать прибыль ... рублей.	<ol style="list-style-type: none"> 1. 25 ... 355 2. 20 ... 380 3. 30 ... 280 4. 20 ... 180 																								
1 6 0	Какое утверждение является правильным?	<ol style="list-style-type: none"> 1. бухгалтерская прибыль – неявные издержки = экономическая прибыль; 2. экономическая прибыль – бухгалтерская прибыль = явные издержки; 3. экономическая прибыль – неявные издержки = бухгалтерская прибыль; 4. явные издержки + неявные издержки = бухгалтерские издержки. 																								
1 6 1	Главной общей особенностью рынков ресурсов является то, что...	<ol style="list-style-type: none"> 1. предложение на них абсолютно неэластично; 2. спрос на них определяется спросом на товары, которые можно произвести из этих ресурсов; 3. государство жестко регулирует эти рынки в отличие от рынка потребительских товаров; 4. эти рынки взаимосвязаны. 																								
1 6 2	Если фермер платит за земельный участок землевладельцу арендную плату 500 тыс. рублей в год, то при 20 % ставке	<ol style="list-style-type: none"> 1. 600; 2. 25; 3. 2500; 4. 500. 																								



	фермер может выкупить эту землю за _____ тыс. рублей.	
1 6 3	Номинальные доходы населения выросли за год на 30%. Налоги выросли на 2%. Цены повысились на 12%. Определите, как изменились реальные доходы населения?	1. увеличились на 14%; 2. увеличились на 16%; 3. уменьшились на 12%; 4. уменьшились на 2%.
1 6 4	Если рента с земельного участка в 10 га составила за год 240 тыс. руб., а ставка банковского процента равна 20%, то цена этого земельного участка будет ... тыс. руб.	1. 600; 2. 240; 3. 1200; 4. 500.
1 6 5	Цена земли зависит от:	1. величины ежегодной ренты; 2. ставки банковского процента; 3. величины альтернативного дохода покупателя земли; 4. верно все вышеперечисленное.
1 6 6	При росте размера заработной платы предложение труда:	1. увеличивается; 2. уменьшается; 3. остается неизменным; 4. сначала растет, а потом может сократиться.
1 6 7	Изменение в экономике, повышающее уровень благосостояния хотя бы для одного из участников, при котором не допускается снижение уровня благосостояния ни одного из других участников, называется...	1. равновесием Линдаля; 2. внешним эффектом; 3. Парето-эффективностью; 4. информационной асимметрией.
1 6 8	Внешние эффекты возникают потому что...	1. их создают производители товаров, а оплачивать должно государство; 2. они связаны с монополией; 3. они связаны с выгодами или издержками, не созданными никем; 4. рыночные цены не отражают внешних издержек и выгод.
1 6 9	Отрицательные внешние эффекты ведут к неэффективности, так как...	1. общественные издержки больше частных предельных издержек; 2. способствуют сокращению потребления блага, порождающего отрицательный внешний эффект; 3. доходы перераспределяются от незагрязняющих среду предприятий к загрязняющим среду; 4. увеличиваются затраты на очистные сооружения при увеличении объема выпуска выше оптимального.
Раздел 3. Макроэкономика		
1 7 0	ВВП отличается от ВВП тем, что в него включается	1. только конечные продукты, производимые национальными товаропроизводителями за рубежом; 2. только конечные продукты, производимые внутри страны иностранными товаропроизводителями; 3. только конечные продукты, производимые внутри страны иностранными товаропроизводителями и



		отечественными за рубежом; 4. только конечные продукты, производимые внутри страны национальными и иностранными товаропроизводителями.
1 7 1	Дефлятор валового национального продукта равен отношению:	1. прибыли к себестоимости; 2. номинального ВВП к реальному ВВП; 3. номинального ВВП к номинальному ВВП; 4. экспорта к импорту.
1 7 2	Чистый экспорт учитывается при расчете ВВП методом ...	1. добавленной стоимости; 2. расходов; 3. доходов; 4. распределенной стоимости.
1 7 3	Какой из представленных компонентов ВВП по расходам может принимать отрицательное значение?	1. С – личные потребительские расходы; 2. I – валовые частные внутренние инвестиции; 3. G – государственные закупки товаров и услуг; 4. NX – чистый экспорт.
1 7 4	Совокупное предложение – это:	1. общее количество товаров и услуг, которое могут предложить производители при данном уровне цен; 2. предложение денег на денежном рынке; 3. общий объем товаров и услуг, на который предъявляется спрос при различных уровнях цен; 4. количество товаров и услуг, произведенное и предложенное государственным сектором экономики.
1 7 5	Участок кривой AS, который характеризуется тем, что на нем все факторы производства используются не полностью – это:	1. кейнсианский; 2. промежуточный; 3. классический; 4. нет верного ответа.
1 7 6	Для классического отрезка кривой совокупного спроса характерно:	1. изменение объема ВВП при условии снижения уровня цен; 2. изменение объема ВВП при неизменных ценах; 3. изменение объема ВВП и рост цен; 4. изменение уровня цен при неизменном объеме ВВП.
1 7 7	Какой формулой выражается предельная склонность к потреблению?	1. $MPM = \Delta M / \Delta Y$ 2. $MPS = \Delta S / \Delta Y$ 3. $MPI = \Delta I / \Delta Y$ 4. $MPC = \Delta C / \Delta Y$
1 7 8	Основной психологический закон заключается в том, что:	1. при увеличении AD ожидания потребителей относительно сокращения дохода растут; 2. величина совокупного предложения уменьшается из-за ожиданий производителей относительно будущего повышения цен; 3. попытка общества больше сберечь оборачивается таким же или меньшим объемом сбережений; 4. с ростом дохода потребление тоже растет, но в меньшей степени, чем растет доход.
1 7 9	Эффект мультипликатора – это увеличение национального дохода, являющееся:	1. результатом роста автономных расходов; 2. результатом роста автономных доходов; 3. результатом снижения автономных расходов;



		4. нет правильного ответа.
1 8 0	Полная занятость ресурсов характерна для фазы:	1. кризиса; 2. депрессии; 3. оживления; 4. подъема.
1 8 1	Циклы длительность 20-25 лет исследовал:	1. Саймон Кузнец; 2. Карл Маркс; 3. Николай Кондратьев; 4. Корадо Джини.
1 8 2	Экономические циклы Кондратьева обусловлены периодичностью ...	1. массового обновления основного капитала; 2. в сфере технических изобретений и открытий; 3. жизненных циклов товаров; 4. обновления жилищ и некоторых производственных сооружений.
1 8 3	Концепцию «длинных волн конъюнктуры» разработал ...	1. К. Маркс; 2. Н. Кондратьев; 3. Э. Тоффлер; 4. Э. Хансен.
1 8 4	Фаза экономического цикла, характеризующаяся резким сокращением объемов производства, занятости и инвестиций, называется ...	1. кризисом; 2. депрессией; 3. оживлением; 4. подъемом.
1 8 5	Полная занятость предполагает ...	1. наличие циклической безработицы; 2. отсутствие безработных; 3. наличие фрикционной и структурной безработицы; 4. наличие 100% -ной занятости трудоспособного населения.
1 8 6	Какое определение инфляции на ваш взгляд правильное?	1. повышение потребительского спроса в экономике; 2. падение объемов производства; 3. снижение покупательной способности денег; 4. явление возможное, как при растущем, так и при стабильном уровне цен
1 8 7	К инструментам кредитно-денежной политики относятся...(не менее 2-х)	1. налоги; 2. норма обязательного резервирования; 3. пособия по безработице; 4. операции на открытом рынке с ценными бумагами.
1 8 8	Термин «операции на открытом рынке» означает:	1. деятельность коммерческих банков по кредитованию населения; 2. изменение процентных ставок под влиянием изменения банковских активов; 3. операции ЦБ по изменению количества текущих счетов коммерческих банков; 4. продажа или покупка ЦБ государственных ценных бумаг.
1 8 9	Политика дешевых денег предполагает... (не менее 2-х)	1. сокращение темпов инфляции; 2. снижение резервной нормы; 3. покупку государственных ценных бумаг; 4. повышение учетной ставки.
1	К полноценным деньгам относятся	1. золотые и серебряные монеты;



9 0		<ol style="list-style-type: none">2. банкноты, чеки и векселя;3. монеты и бумажные деньги;4. только наличные деньги.
1 9 1	Прямое влияние на увеличении количества денег в обращении оказывает:	<ol style="list-style-type: none">1. увеличение безналичных расчетов;2. увеличение скорости оборота денег;3. снижение количества выпускаемых товаров;4. рост цен выпускаемых товаров.
1 9 2	Что из перечисленного характеризует транзакционный спрос на деньги?	<ol style="list-style-type: none">1. покупка хлеба;2. покупка акций;3. получение кредита;4. получение заработной платы.
1 9 3	К активным операциям коммерческого банка не относятся...	<ol style="list-style-type: none">1. кредитные операции;2. операции по привлечению ресурсов;3. операции по размещению ресурсов;4. покупка государственных ценных бумаг.
1 9 4	Термин «учетная ставка» означает	<ol style="list-style-type: none">1. курс государственных облигаций, по которому ЦБ покупает их на открытом рынке;2. процентную ставку, по которой ЦБ предоставляет ссуды коммерческим банкам;3. увеличение общего объема резервов коммерческих банков;4. степень воздействия ЦБ на рост денежной массы и объемы ВВП.
1 9 5	Кредитная система выполняет такие функции, как ... (не менее 2-х)	<ol style="list-style-type: none">1. мобилизация свободных денежных средств и их использования в экономике;2. обеспечение механизма общественного воспроизводства;3. перераспределение доходов в обществе;4. сбор денег в бюджет.
1 9 6	<u>К промежуточной цели денежно-кредитной политики относится...</u>	<ol style="list-style-type: none">1. денежная масса;2. стабильность цен;3. ставки налогов;4. полная занятость.
1 9 7	Основными источниками доходов государственного бюджета являются	<ol style="list-style-type: none">1. импорт и продажа нефти;2. инвестиции и сбережения;3. доходы граждан и прибыль фирм;4. экспорт и амортизационные отчисления.
1 9 8	Дефицит государственного бюджета образуется в тех случаях, когда:	<ol style="list-style-type: none">1. сумма активов государства превышает размеры его обязательств;2. сумма расходов государства превышает сумму налоговых поступлений;3. расходы государства уменьшаются;4. обязательства государства превышают его активы.
1 9 9	Кривая Лаффера характеризует зависимость между...	<ol style="list-style-type: none">1. инфляцией и безработицей;2. уровнем инфляции и величиной денежной массы;3. уровнем инфляции и динамикой ВВП;4. доходами бюджета и динамикой налоговых ставок.
2 0	Недискреционная (автоматическая) налогово-бюджетная политика ...	<ol style="list-style-type: none">1. усиливает амплитуду циклических колебаний экономики;



0		2. автоматически балансирует государственный бюджет; 3. фиксирует курс национальной валюты; 4. уменьшает амплитуду циклических колебаний экономики.
2 0 1	Коэффициент Джини характеризует...	1. уровень безработицы; 2. неравномерность распределения доходов в обществе; 3. уровень инфляции; 4. денежную массу.
2 0 2	Какая система налогообложения будет способствовать повышению степени равномерности распределения доходов в обществе	1. прогрессивная; 2. регрессивная; 3. пропорциональная; 4. прямого налогообложения.
2 0 3	Какое из значений коэффициента Джини характеризует наиболее высокую степень дифференциации доходов в обществе	1. 0,3 2. 0,5 3. 0,75 4. 0,8
2 0 4	Какие выводы можно сделать, анализируя кривую Лоренца?	1. об уровне налогообложения в обществе; 2. об уровне потребления благ; 3. о степени неравномерности распределения дохода в обществе; 4. об уровне развития международной торговли.
2 0 5	Понятие «мировое хозяйство» и «мировой рынок»...	1. являются равнозначными; 2. понятие «мировое хозяйство» шире чем «мировой рынок»; 3. понятие «мировой рынок» шире чем «мировое хозяйство»; 4. между этими понятиями нет связи.
2 0 6	Увеличение объемов вывоза капитала между промышленно-развитыми странами связано с ... (не менее 2-х)	1. большой емкостью их рынков; 2. невозможностью создать крупномасштабное производство; 3. наличием квалифицированной рабочей силы; 4. увеличением потребности в сырье.
2 0 7	Какой из перечисленных методов регулирования внешней торговли относятся к тарифным методам	1. импортные квоты; 2. экспортные пошлины; 3. демпинг; 4. торговое эмбарго.
2 0 8	Сторонники протекционизма утверждают, что пошлины, квоты и другие торговые барьеры необходимы для:	1. защиты отраслей от иностранной конкуренции; 2. повышения уровня занятости в стране; 3. предотвращения демпинга; 4. всего, что перечислено.
2 0 9	Вследствие введения импортных квот...	1. ухудшается благосостояние потребителей; 2. ухудшается благосостояние производителей; 3. улучшается благосостояние потребителей; 4. улучшается благосостояние производителей; 5. верны ответы 1 и 4; 6. верны ответы 2 и 3.
2 1	Дефицит счета текущих операций платежного баланса финансируется ...	1. оттоком капитала со счета операций с капиталом; 2. притоком капитала на счет операций с капиталом;



0		3. сокращением официальных резервов; 4. снижением курса национальной валюты.
2 1 1	В модели AD-AS движение вдоль кривой совокупного спроса может быть вызвано:	1. изменением величины дохода; 2. изменением уровня цен; 3. изменением мультипликатора автономных расходов; 4. изменением благосостояния потребителей.
2 1 2	Изменение величины автономного потребления может быть графически представлено как:	1. перемещение вдоль линии функции потребления; 2. параллельный сдвиг линии функции потребления; 3. изменение угла наклона линии функции потребления.
2 1 3	При прочих равных условиях рост совокупного спроса может быть вызван ...	1. сокращением предложения денег; 2. предоставлением налоговых льгот инвесторам; 3. увеличением импорта; 4. ростом подоходного налога.
2 1 4	К сокращению совокупного предложения при прочих равных условиях может привести ...	1. предоставление налоговых льгот сельхозпроизводителям; 2. снижение цен на сырье; 3. снижение производительности труда в национальной экономике; 4. сокращение уровня безработицы.
2 1 5	Какое из перечисленных ниже мероприятий государство осуществляет в фазе подъема экономики?	1. увеличивает государственные расходы; 2. снижает налоговые ставки; 3. осуществляет политику ускоренной амортизации; 4. проводит политику ограничения совокупного спроса.
2 1 6	Что из перечисленного вызывает инфляцию спроса?	1. рост цен на сырье и транспортные услуги; 2. рост процентной ставки; 3. рост государственных расходов; 4. снижение инвестиций.
2 1 7	Если темпы инфляции составили 0,3 % в месяц, такая инфляция называется ...	1. ползучая; 2. стремительная; 3. галопирующая; 4. гиперинфляция.
2 1 8	Установите соответствие между формами безработицы и методами, которые позволяют преодолеть эти формы безработицы. 1. Фрикционная безработица 2. Структурная безработица 3. Циклическая безработица	1. уменьшение численности населения; 2. улучшение информации о вакансиях; 3. повышение реального дохода людей; 4. развитие системы профессионального обучения и переобучения. 1-2, 2-4, 3-3
2 1 9	К безработным, охваченным фрикционной формой безработицы, относится ...	1. квалифицированный рабочий, ищущий работу более шести месяцев в связи с сокращением предприятий в отрасли; 2. молодой безработный учитель, находящийся в процессе поиска места работы не по специальности; 3. молодой безработный инженер, находящийся в процессе выбора нового места работы в целях



		карьерного роста; 4. врач-пенсионер, ищущий работу по своей специальности по новому месту жительства.
2 2 0	Циклическая безработица также называется:	1. безработицей ожидания; 2. безработицей поиска; 3. сезонной безработицей; 4. безработицей недостаточного спроса.
2 2 1	Что из перечисленного не относится к циклической безработице	1. порождается фазами спада и депрессии; 2. увеличивается в условиях оживления и подъема; 3. ведет к недопроизводству ВВП; 4. не поддается «лечению» со стороны государства.
2 2 2	Инфляцию спроса может вызвать:	1. резкий скачок цен на нефть; 2. быстрый рост цен на оборудование; 3. подорожание сырьевых ресурсов; 4. увеличение доходов стране при отстающем увеличении объема производства.
2 2 3	Примером экстенсивного экономического роста является увеличение производства в результате...	1. внедрения новой технологии; 2. использования более качественного сырья; 3. увеличения числа станков на предприятии; 4. замены оборудования на более совершенное.
2 2 4	Экономический рост может быть проиллюстрирован:	1. сдвигом КПВ вправо; 2. движением вдоль КПВ сверху вниз; 3. движением от одной точки к другой внутри пространства КПВ; 4. правосторонним движением от одной точки к другой за пределами КПВ.
2 2 5	Если увеличение темпов роста ВВП было вызвано вовлечением в производственный процесс дополнительных факторов производства, то имеет место:	1. экстенсивный рост; 2. интенсивный рост; 3. отсутствие роста; 4. неопределенность, так как отсутствует информация о ценах на факторы производства.
2 2 6	Политика дешевых денег предполагает... (не менее 2-х)	5. сокращение темпов инфляции; 6. снижение резервной нормы; 7. покупку государственных ценных бумаг; 8. повышение учетной ставки.
2 2 7	Норма обязательных резервов оказывает непосредственное влияние на... (не менее 2-х)	1. денежный (банковский) мультипликатор; 2. мультипликатор сбалансированного бюджета; 3. объем налоговых поступлений; 4. величину избыточных резервов.
2 2 8	Фактические резервы коммерческого банка включают в себя ... (не менее 2-х)	1. собственный капитал; 2. избыточные резервы; 3. обязательные резервы; 4. страховые резервы.
2 2 9	Дефицит госбюджета составляет 250 ден. ед., налоговые поступления выросли на 200 ден. ед., при прочих равных условиях...	1. государственный бюджет стал сбалансированным; 2. дефицит бюджета сократился до 50 ден. ед.; 3. возник профицит бюджета в 50 ден. ед.; 4. дефицит бюджета вырос на 50 ден. ед.
2 3	Какая из перечисленных сделок увеличит положительное сальдо баланса текущих	1. компания «Газпром» заключила бартерную сделку с Украиной на поставку газа на сумму 1 млн. долл.



0	операций России?	в обмен на трубы; 2. Россия получит заем у Германии на покупку оборудования для реконструкции завода на сумму 500 млн. долл.; 3. Россия продает военный самолет Индии стоимостью 1 млн. долл.
2 3 1	Если Центральный банк проводит валютные интервенции, то это является проявлением	1. девальвации; 2. политики фиксированного валютного курса; 3. политики плавающего валютного курса; 4. денежно-кредитной политики.
2 3 2	Если страна имеет абсолютное преимущество в производстве некоторого товара, то это означает, что она:	1. имеет сравнительное преимущество в его производстве; 2. производит его в больших количествах; 3. производит его с меньшими издержками, чем другие страны; 4. производит данный товар дешевле, чем обходится ей производство других товаров.
2 3 3	ЧВП при условии, что ВВП равен 10 000 ден. ед., амортизационные отчисления 700 ден. ед., трансфертные платежи 500 ден. ед., потребительские расходы 3500 ден. ед., составит _____ ден. ед.	1. 9300 2. 8800 3. 5300 4. 6500
2 3 4	Если реальный ВВП в 2003 г. составила 13,24 трлн.руб., а в 2009 г. – 17,12 трлн.руб., то при дефляторе ВВП 2009 г. по отношению в 2003 г. равном 2,28 номинальный ВВП 2009 г. составил _____ трлн.руб.	1. 22,11 2. 30,19 3. 39,03 4. 75,05
2 3 5	Если ВВП в текущих ценах составляет 1200 млрд. евро, а реальный – 1100 млрд. евро, то дефлятор ВВП равен ...	1. 0,92; 2. 1,09; 3. 100; 4. 2300.
2 3 6	Объем сбережений в прошлом году составил 500 ден. ед. По итогам текущего года (за аналогичный период) сбережения выросли на 150 ден. ед. Если средняя склонность к сбережениям равна 50%, располагаемый доход равен _____ ден. ед.	1. 25; 2. 300; 3. 1300; 4. 700.
2 3 7	За отчетный период объем потребления увеличился на 150 ден. ед., тогда как располагаемый доход вырос на 200 ден. ед. В этих условиях мультипликатор автономных расходов равен ...	1. 3,03; 2. 1,33; 3. 0,25; 4. 4.
2 3 8	Если потребители из каждой дополнительной единицы дохода сберегают 25%, то мультипликатор	1. 4; 2. 2,5; 3. 10; 4. 0,4.



	составляет:	
2 3 9	Денежный агрегат M_2 равен 500 млрд. руб., срочные вклады составляют 150 млрд. руб., сберегательные вклады 60 млрд. руб. Денежный агрегат M_1 равен...	1. 350 млрд. руб.; 2. 650; 3. 290; 4. 590.
2 4 0	Реальный годовой объем производства составляет 640 млрд. руб., а скорость обращения денег равна 4. В том случае масса реальных денег в экономике достигнет величины (в млрд. руб.):	1. 100; 2. 120; 3. 160; 4. 240.
2 4 1	Предположим, что депозиты коммерческих банков возросли на 250 млн. руб. Норма обязательного резервирования на этот момент составляла 20 %. Каково максимальное увеличение предложения денег (в млн. руб.)?	1. 500; 2. 1000; 3. 750; 4. 1500.

4. ПОРЯДОК ПРОВЕДЕНИЯ И КРИТЕРИИ ОЦЕНИВАНИЯ ПРОМЕЖУТОЧНОЙ АТТЕСТАЦИИ

4.1. Порядок проведения промежуточной аттестации

Зачет проводится в форме тестирования. Студент решает 30 тестовых вопросов закрытого типа, в том числе вопросы, предполагающие решение расчетных и ситуационных задач. Продолжительность зачета – 60 минут.

При дистанционном обучении устный опрос, в том числе защита курсовых работ, реализуется в Microsoft Teams, практические задания и письменные ответы размещаются в Moodle, ответы должны сданы также в Moodle, тестирование осуществляется также в Moodle.

4.2. Критерии оценивания промежуточной аттестации по видам оценочных средств.

Максимальный балл за тест — 30 баллов. Если задание выполнено правильно, то оно оценивается 1 баллом.

Оценка	зачтено	зачтено	зачтено	не зачтено
Баллы	30-28 баллов	27-24 баллов	23-18	17-0 баллов
Уровень освоения проверяемых компетенций	высокий	средний	базовый	недостаточный



4.3. Результаты промежуточной аттестации и уровни сформированности компетенций

При выполнении тестовых заданий студент может получить следующие результаты:

«зачтено» - если решения теста составляет 60%;

«не зачтено» – выставляется студентам, не получившим необходимое количество баллов.

Особенности проведения процедуры оценивания результатов обучения инвалидов и лиц с ограниченными возможностями здоровья обозначены в рабочей программе дисциплины (модуля).

Уровни сформированности компетенций определяется следующим образом:

1. Высокий уровень сформированности компетенций соответствует оценке – зачтено:

- предполагает формирование компетенций на высоком уровне, готовность к самостоятельной профессиональной деятельности: студент знает в полном объеме основные понятия и методы изучаемой дисциплины; умеет применять в полном объеме базовые знания и методы при решении задач теоретической и практической направленности; студент способен решить любую задачу из пройденного материала и объяснить свое решение.

2. Средний уровень соответствует оценке – зачтено:

- предполагает формирование компетенций на среднем уровне: студент твердо знает программный материал, грамотно и по существу его излагает; владеет основными экономическими методами; не допускает существенных ошибок, но и испытывает затруднения в выводах и доказательствах; умеет применять основные положения и формулы для решения задач.

3. Базовый уровень соответствует оценке – зачтено:

-предполагает формирование компетенций на начальном уровне: студент имеет знания только основного материала, но не умеет делать выводов и доказательств; допускает ошибки, недостаточно правильные формулировки; с трудом увязывает основные положения с практикой.

4. Низкий уровень соответствует оценке – не зачтено.

